

GRINCH-MAS PUZZLE



Instructions: Determine what each of the Grinch-mas images represent in the following maths problems:



+



=

32



+



+



=

34



+



+



+



=

72



+



+



=



+



+



+



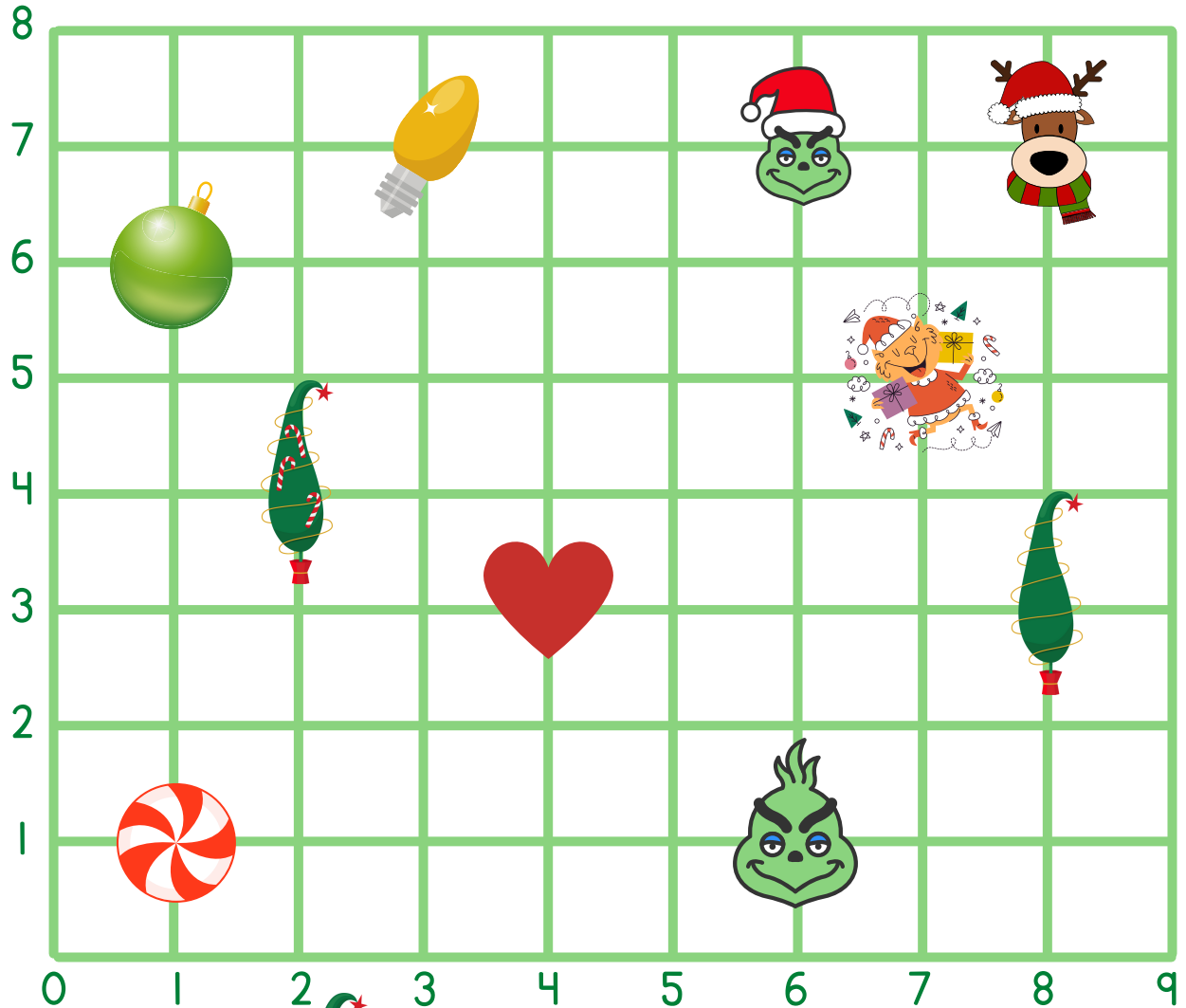
=











Name: _____

Date: _____

Grinch-mas Coordinate Grid

Locate each icon and write the coordinates of its point.



 (--, --)	 (--, --)	 (--, --)	 (--, --)	 (--, --)
 (--, --)	 (--, --)	 (--, --)	 (--, --)	 (--, --)

GRINCH-MAS GRAPH




Find and graph the items listed. Then answer the questions below.



10				
9				
8				
7				
6				
5				
4				
3				
2				
1				



How many of each?

<input type="text"/>		<input type="text"/>	
<input type="text"/>		<input type="text"/>	

Which item did you find the most of?

Which item did you find the least of?
